




โจทย์: ให้เลือกรูปทรงเรขาคณิตจากตัวเลือกข้างล่างนี้ แล้ววาดลงในช่องว่าง



ข้อ 9



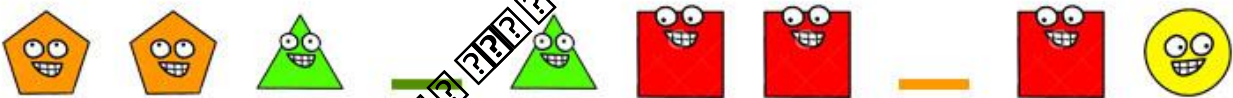
ข้อ 10



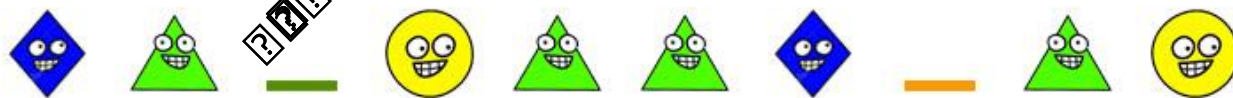
ข้อ 11



ข้อ 12



ข้อ 13



ข้อ 14



ข้อ 15

