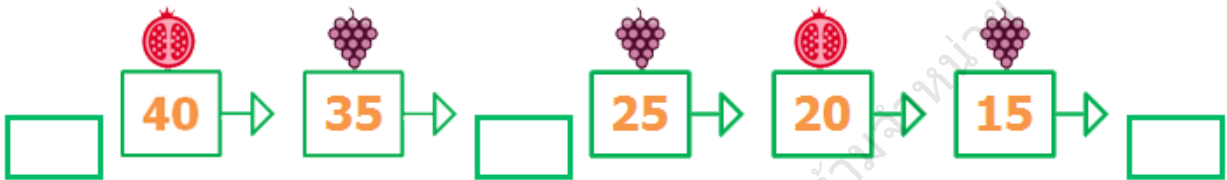


โจทย์: นับลดครั้งละเท่าๆกัน แล้วใส่ตัวเลขลงไปในกลุ่มเปล่า

ข้อ 1



ข้อ 2



ข้อ 3



ข้อ 4

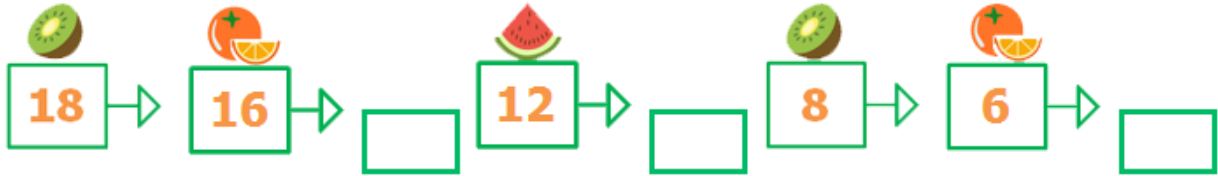


ข้อ 5

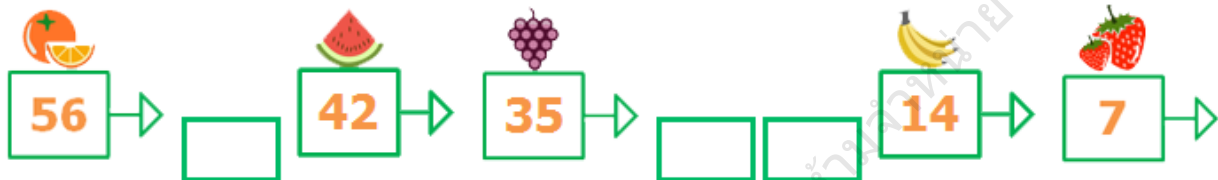


โจทย์: นับลดครั้งละเท่าๆกัน แล้วใส่ตัวเลขลงไปในกลุ่มเปล่า

ข้อ 6



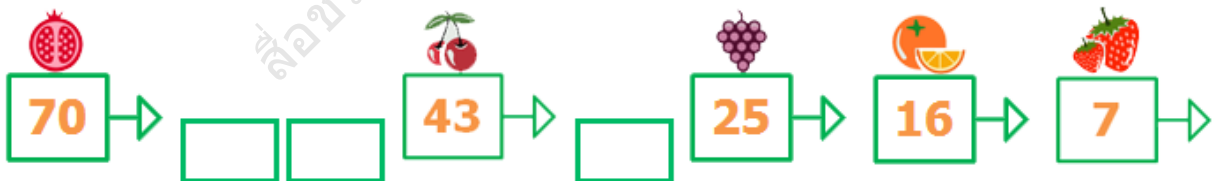
ข้อ 7



ข้อ 8



ข้อ 9



ข้อ 10

