




เลือก Code  แสดงเส้นทางที่ทำให้นกฮูกกลับรังให้ได้ 5 วิธี

(ดูตัวอย่างการเขียน Code จากรูปแรกในหน้าที่ 1)

- 1) _____
- 2) _____
- 3) _____
- 4) _____
- 5) _____

- 1) _____
- 2) _____
- 3) _____
- 4) _____
- 5) _____

เลือก Code  แสดงเส้นทางที่ทำให้นกฮูกกลับรังให้ได้ 5 วิธี

(ดูตัวอย่างการเขียน Code จากรูปแรกในหน้าที่ 1)



- 1) _____
- 2) _____
- 3) _____
- 4) _____
- 5) _____



- 1) _____
- 2) _____
- 3) _____
- 4) _____
- 5) _____

เลือก Code  แสดงเส้นทางที่ทำให้กฐกกลับรังให้ได้ 5 วิธี

(ดูตัวอย่างการเขียน Code จากรูปแรกในหน้าที่ 1)



1) _____

2) _____

3) _____

4) _____

5) _____

1) _____

2) _____

3) _____

4) _____

5) _____