


ชื่อ – นามสกุล

คะแนน

ตั้งชื่อมุม , เขียนสัญลักษณ์ , บอกชนิดของมุม จุดยอดและแขนของมุมได้

1)



มุม เป็นมุม

จุดยอดมุม คือ แขนของมุม คือ และ

2)


www.karn.tv
 เว็บการศึกษาช่วงชั้นที่ 1



มุม เป็นมุม

จุดยอดมุม คือ แขนของมุม คือ และ

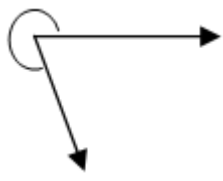
3)



มุม เป็นมุม

จุดยอดมุม คือ แขนของมุม คือ และ

4)



มุม เป็นมุม

จุดยอดมุม คือ แขนของมุม คือ และ

5)

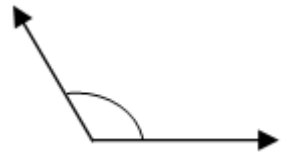


มุม เป็นมุม

จุดยอดมุม คือ แขนของมุม คือ และ

www.karn.tv
 เว็บไซต์การศึกษาช่วงชั้นที่ 1

6)



มุม เป็นมุม

จุดยอดมุม คือ แขนของมุม คือ และ