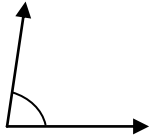

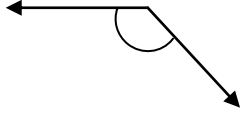

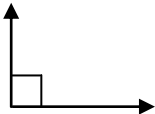
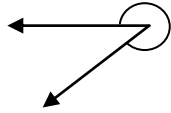
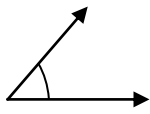


ชื่อ – นามสกุล

คะแนน

จากรูปมุมต่อไปนี้ ให้ขีด ✓ ลงในช่องที่มีชนิดของมุมตรงกับรูป

ข้อ	รูปนี้คือ	มุมแหลม	มุมป้าน	มุมฉาก	มุมกลับ
1					
2	 <small>www.karn.tv เว็บการศึกษาช่วงชั้นที่ 1</small>				
3					
4					
5					
6					
7					
8	