






ชื่อ – นามสกุล

คะแนน

เขียนเส้นแบ่งมุมและค่าองศาของกลุ่มมุมประกอบมุมฉากให้ถูกต้อง โดยให้กำหนดค่าองศาของกลุ่มมุมประกอบมุมฉากเอง

ข้อ	รูป	ข้อ	รูป
1		4	
2	<p style="text-align: center; color: gray; font-size: small;">www.karn.tv เว็บการศึกษาช่วงชั้นที่ 1</p> 	5	
3		6	