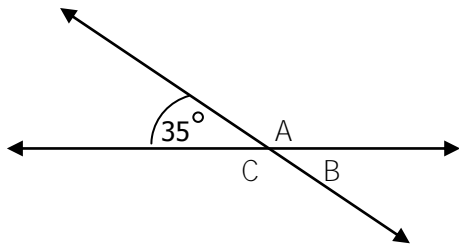


ชื่อ – นามสกุล

คะแนน

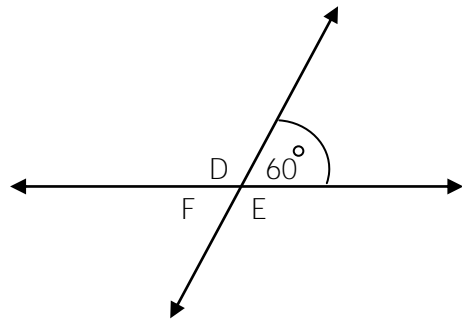
จากองศามุมที่กำหนดให้ จงหาค่าอาศาศของมุมที่เหลือทั้ง 3 มุม



มุม A = องศา

มุม B = องศา

มุม C = องศา

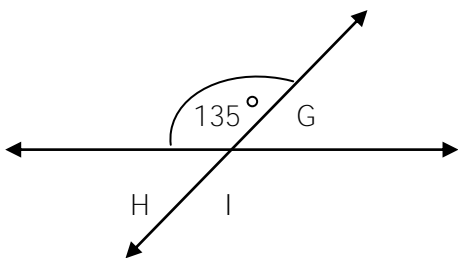


www.karn.tv
 เว็บไซต์การศึกษาช่วงชั้นที่ 1

มุม D = องศา

มุม E = องศา

มุม F = องศา



มุม G = องศา

มุม H = องศา

มุม I = องศา