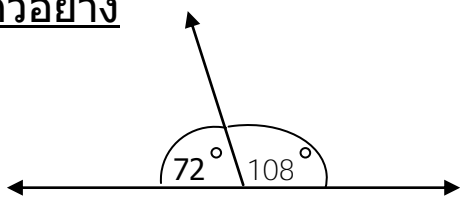


ชื่อ – นามสกุล

คะแนน

เขียนเส้นแบ่งมุมและองศาของมุมประชิดบนเส้นตรง โดยให้กำหนดค่าองศาของมุมประชิดบนเส้นตรงเอง

ตัวอย่าง



1)



2)



3)

www.karn.tv
 เว็บการศึกษาช่วงชั้นที่ 1



4)

5)



6)

7)

