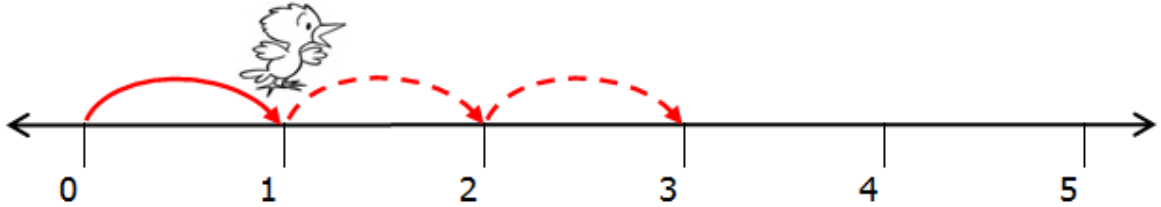
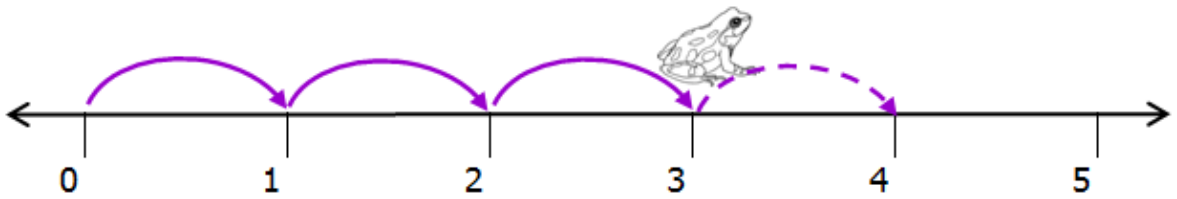


เพื่อให้รู้จักวิธีใช้เส้นจำนวน ให้เด็กๆเติมตัวเลขลงใน  (ไปทางขวา = เพิ่มขึ้น)



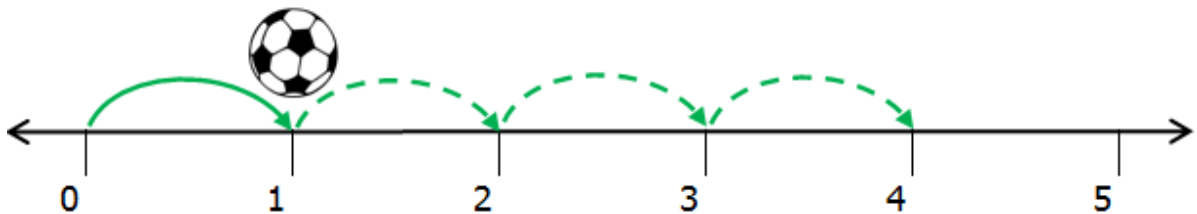
นกน้อยอยู่ที่ตำแหน่ง  ถ้าบินไปทางขวาก็  ช่อง

$$= \text{  +  =  }$$



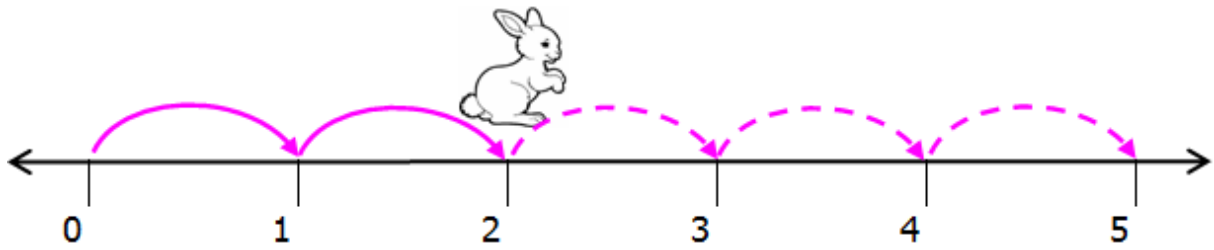
กบอยู่ที่ตำแหน่ง  ถ้ากระโดดไปทางขวาก็  ช่อง

$$= \text{  =  }$$



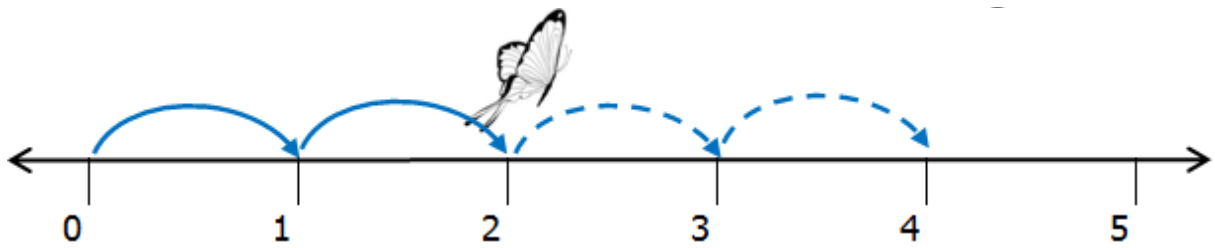
ลูกบอลอยู่ที่ตำแหน่ง  ถ้ากระดิ่งไปทางขวาก็  ช่อง

$$= \text{  =  }$$



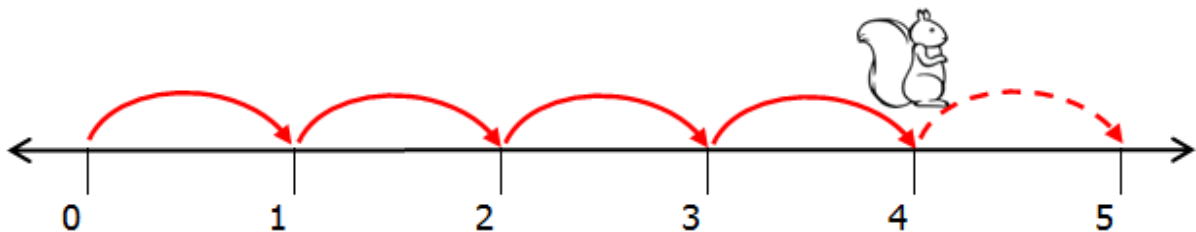
กระต่ายอยู่ที่ตำแหน่ง  ถ้ากระโดดไปทางขวาอีก  ช่อง

=  =



ผีเสื้ออยู่ที่ตำแหน่ง  ถ้าบินไปทางขวาอีก  ช่อง

=  =



กระรอกอยู่ที่ตำแหน่ง  ถ้ากระโดดไปทางขวาอีก  ช่อง

=  =