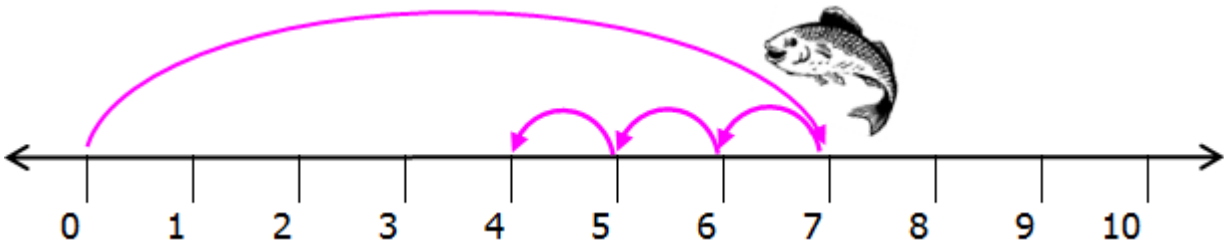
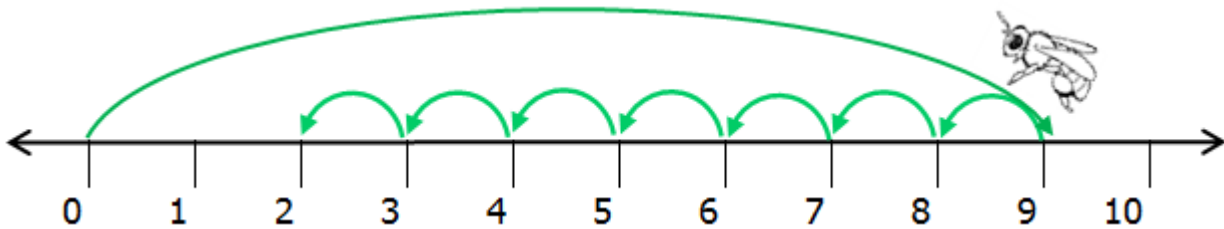


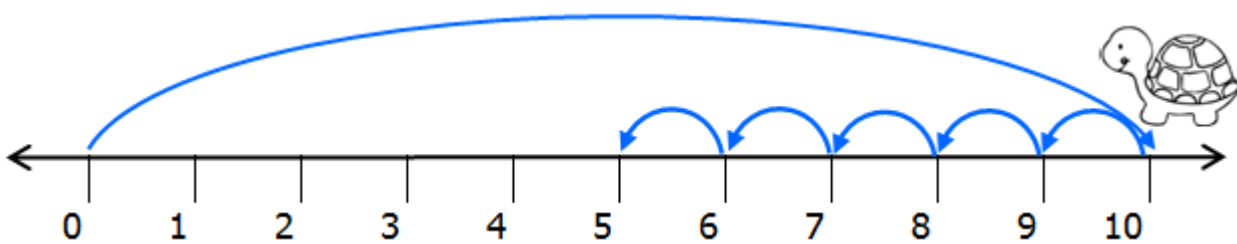
เพื่อให้รู้จักวิธีใช้เส้นจำนวน ให้เด็กๆเติมตัวเลขลงใน  (ไปทางซ้าย = ลดลง)



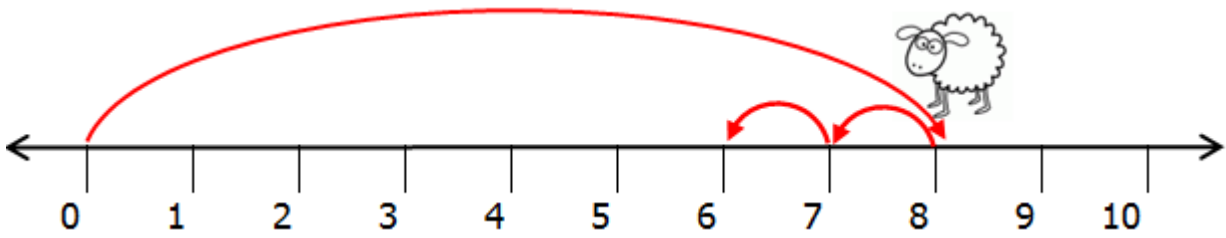
ปลาว่ายน้ำไปทางขวา <input type="text"/> ช่อง	= <input type="text"/>	= <input type="text"/>
แล้วกลับไปทางซ้าย <input type="text"/> ช่อง		



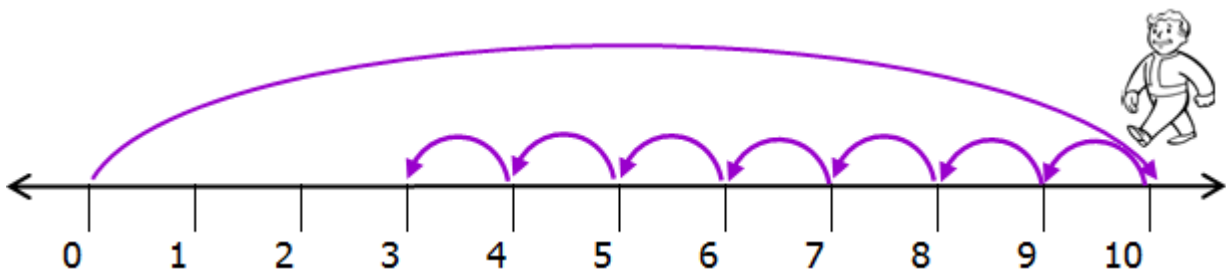
ผึ้งน้อยบินวนไปทางขวา <input type="text"/> ช่อง	= <input type="text"/>	= <input type="text"/>
แล้วกลับไปทางซ้าย <input type="text"/> ช่อง		



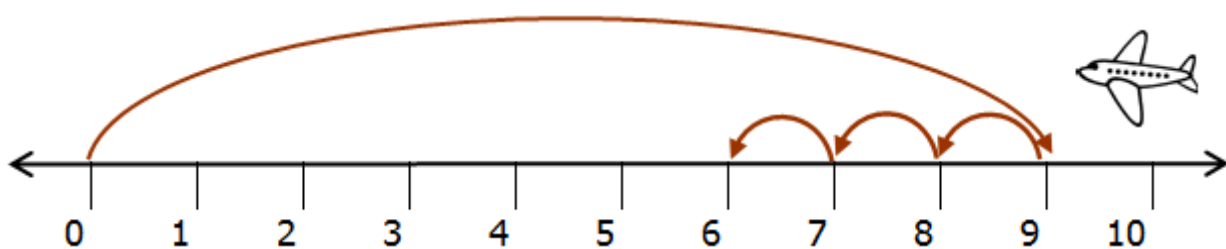
เจ้าเต่าเดินช้าๆไปทางขวา <input type="text"/> ช่อง	= <input type="text"/>	= <input type="text"/>
แล้วกลับไปทางซ้าย <input type="text"/> ช่อง		



แกะน้อยกินหญ้าไปทางขวา <input type="text"/> ช่อง แล้วกลับไปทางซ้าย <input type="text"/> ช่อง	= <input type="text"/>	= <input type="text"/>
---	------------------------	------------------------



คุณตาเดินเล่นไปทางขวา <input type="text"/> ช่อง แล้วกลับไปทางซ้าย <input type="text"/> ช่อง	= <input type="text"/>	= <input type="text"/>
--	------------------------	------------------------



เครื่องบิน บินไปทางขวา <input type="text"/> ช่อง แล้วกลับไปทางซ้าย <input type="text"/> ช่อง	= <input type="text"/>	= <input type="text"/>
---	------------------------	------------------------