

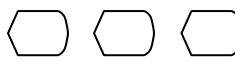


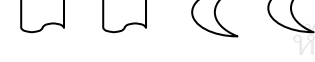
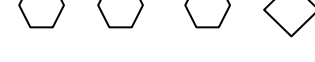







ชื่อ – นามสกุล

คะแนน

โจทย์ ระบายสีแผนภาพแสดงกลุ่มเลขตามที่กำหนด แล้วเติมจำนวนเลข
 ของกลุ่มนั้นลงในช่องสุดท้ายทางขวามือ

1 , 2		
2 , 1		
3 , 0		
0 , 4		
1 , 3		
2 , 2		
3 , 1		
7 , 0		
1 , 6		
2 , 5		
3 , 4		
5 , 2		
6 , 1	