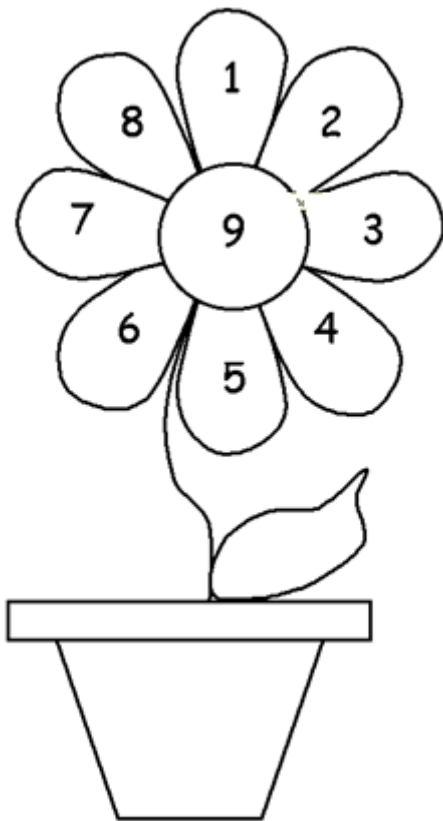


ชื่อ - นามสกุล .....

คะแนน

ให้เขียน หรือ ระบายสีตามคำสั่งด้านล่าง



1. ระบายสีส่วนที่มีเลขคู่ ด้วยสีชมพู

2. ระบายสีส่วนที่มีเลขคี่ ด้วยสีเหลือง

3. เขียนจำนวนคู่

\_\_\_\_\_

4. เขียนจำนวนคี่

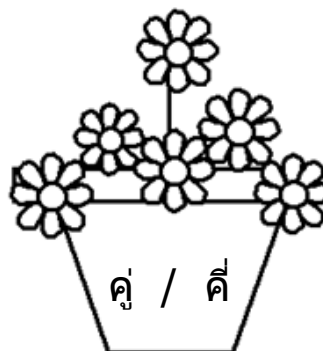


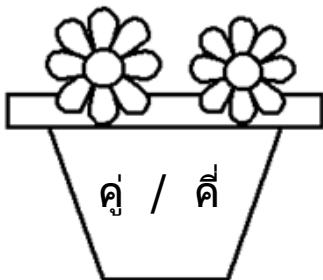


\_\_\_\_\_

ชื่อ - นามสกุล .....

คะแนน

เกมส์กระถางนี้มีคู่ หรือ คี่

1. วงกลมรอบคำที่สัมพันธ์กับจำนวนดอกไม้ในกระถาง
2. ระบายสีภาพที่มีจำนวนเป็นเลขคู่





ชื่อ - นามสกุล .....

คะแนน

จากจำนวน 1 – 20 ให้เขียนเลขคี่ลงบนรูปใบไม้ และเขียนเลขคู่ลงบนรูปไข่

- 1    2    3    4    5    6    7    8    9    10    11  
12    13    14    15    16    17    18    19    20





ชื่อ - นามสกุล .....

คะแนน

จำนวน 21 – 40 ให้เขียนเลขคี่ลงบนรูปใบไม้ และเขียนเลขคู่ลงบนรูปไข่









- |    |    |    |    |    |    |    |    |    |    |
|----|----|----|----|----|----|----|----|----|----|
| 21 | 22 | 23 | 24 | 25 | 26 | 27 | 28 | 29 | 30 |
| 31 | 32 | 33 | 34 | 35 | 36 | 37 | 38 | 39 | 40 |



ชื่อ - นามสกุล .....

คะแนน

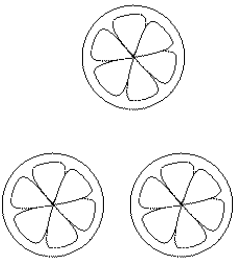



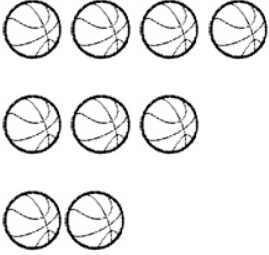


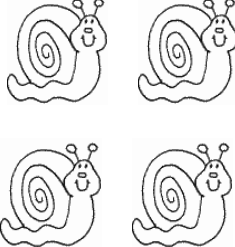
ให้เขียน "คู่" หรือ "คี่" ลงในช่องว่างทางด้านขวาของรูป

ชื่อ - นามสกุล .....

คะแนน

ให้เขียน "คู่" หรือ "คี่" ลงในช่องว่างทางด้านขวาของรูป

ชื่อ - นามสกุล .....

คะแนน

วาดรูปในช่องว่างว่างด้านขวา แทนจำนวน "คู่" หรือ "คี่" ตามที่กำหนด

๑ =		๒ =	
๓ =		๑ =	
๑ =		๒ =	

ชื่อ - นามสกุล .....

คะแนน

เกมค้นหาตัวเลข ให้วงกลมตัวเลขจำนวนคู่

41	2	14	7	18	
3	25	9	4		
10	16	1	34	15	8
20	13	39	26		
31	5	12	36	11	
16	28	31	17	6	



ชื่อ - นามสกุล .....

คะแนน

เกมส์หาตัวเลข ให้วงกลมตัวเลขจำนวนคี่

9	24	15	7	31
13	5	28	12	
19	26	1	20	37
4	13	19	8	
14	25	6	18	11
22	10	3	17	

ชื่อ - นามสกุล .....

คะแนน

ระบายสีของจำนวนคู่ด้วยสีฟ้า และระบายสีเลขจำนวนคี่ด้วยสีส้ม

1	2	3	4	5	6	7	8	9	10
11	12	13	14	15	16	17	18	19	20
21	22	23	24	25	26	27	28	29	30
31	32	33	34	35	36	37	38	39	40
41	42	43	44	45	46	47	48	49	50

ระบายสีเสร็จแล้ว เด็กๆสังเกตเห็นรูปแบบของจำนวนคู่และจำนวนคี่หรือไม่